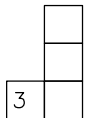
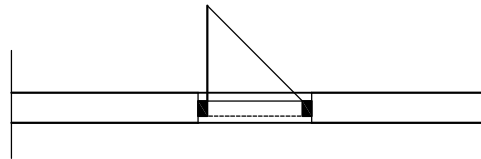
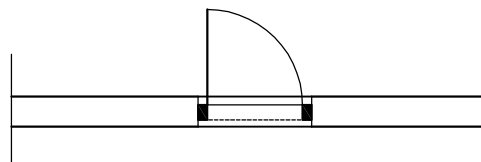


Nacrtaj koristeći pribor za tehničko crtanje normirani simbol za jednokrilna vrata na sredini zidarskog otvora.
Primjeni potrebne vrste crta.

Rješenje 1.



Rješenje 2.



vrata su točnih dimenzija (mogu se zatvoriti ili otvoriti).....1 bod
 zidovi su točno označeni širokom punom crtom.....1 bod
 vrata na simbolu su označena širokom punom crtom.....1 bod

